

DÜŞÜNME KUTUSU

Hazırlayan: Doç.Dr. Selçuk ALSAN



HAYALET

Bir Hayaletle rastlıyorsunuz, bu hayalet konuşurken şu üç yoldan birini izleyebilir:

1. Daima doğruyu söyler.
2. Daima yalan söyler.
3. Bir doğru bir yalan veya bir yalan bir doğru olacak şekilde değiştirerek cevap verir.

Bu hayaletle evet veya hayırla cevaplayacağı iki soru sorarak Hayaletin bu üç konuşma şekliinden hangisini seçtiğini belirleyebilir misiniz?

SAYI



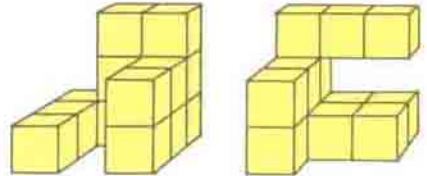
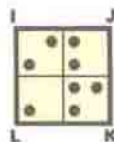
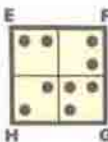
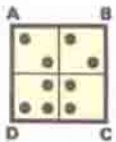
A

Üst sıradaki 7 bandı, alttaki dikdörtgen içine hangi sırayla, nasıl yerleştirmelisiniz ki, bantların siyah karelerinden iki haneli bir sayı düşsün?

NOKTALI KARELER

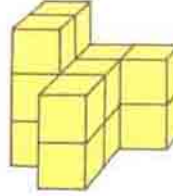
Bu üç kare Saydamdır, bunlardan ikisini üstüste koymakla her küçük karede dört nokta elde edilebilir.

(Büyük kareler istenirse çevrilebilir.)
Hangi iki kare'yi seçerdiniz?

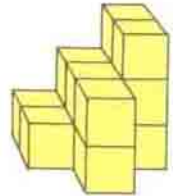


A

B



C



D

KÜPLER


Bu şekillerden hangi ikisini bir araya getirirseniz bir küp oluşur?

UZAY YARATIĞI

Aşağıdaki bilgilere göre, resimdeki uzay yaratığının şu 3 yıldızın hangisinden geldiğini bulunuz:

Altar, Betel, Cassiop (Kısaca A,B,C):

- Bir Altar'lı, bir Betel'li ve bir Cassiop'lu bir araya geldiğinde, ayak sayısı kafa sayısının 3 katıdır ve toplam 8 kol vardır.
- Betel'liler, Cassiop'lular gibi tek kafalıdır.
- Betel'lilerin ayak sayısı Cassiop'lulardan 2 fazla, kol sayıları 2 eksikdir.



Geçen sayımızdaki ZEKASAYAR köşesinde yer alan soruların yanıtları 4'ncü Sayfamızdadır.