

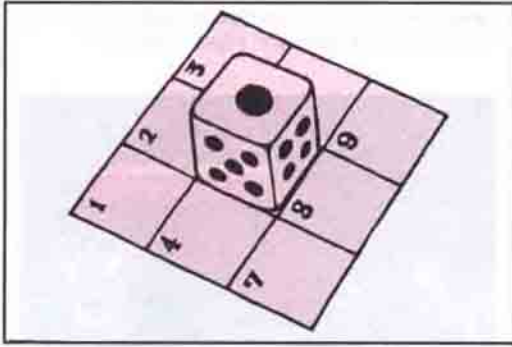


# ZEKASAYAR

EMREHAN HALICI

## ZAR OYUNU

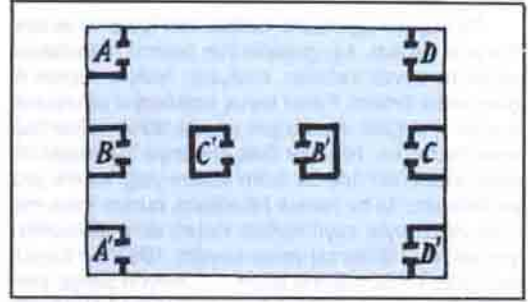
1'den 9'a kadar numaralanmış sayı karelerinin ortasında şekilde görüldüğü gibi (1 sayısı üstte) bir zar durmaktadır. Zarı sadece ileriye, geriye, sağa veya sola yuvarlayarak kareler üzerinde hareket ettirmenizi istiyoruz (Her hareket sonunda zar dörtte bir dönüş yaparak komşu bir kareye gidecektir). Minimum sayıda hareket yaparak, 7 nolu kareye gitmenizi istiyoruz. Şartımız bu kareye geldiğinizde, zarın en üst yüzünde 6 sayısının olması.



## EVLER VE GARAJLAR

Şekilde dört ev ve bu evlere ait garajlar görülmektedir. A evini A' garajıyla, B evini B' garajıyla, C evini C' garajıyla ve D evini D' garajıyla birleştirmenizi istiyoruz. Bunu yaparken,

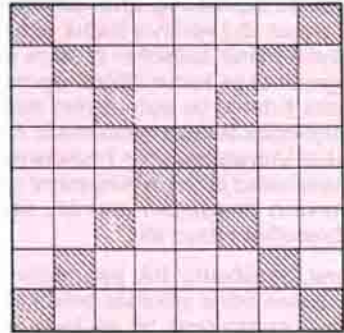
- Hiçbir yol birbirini kesmeyecek.
- Hiçbir yol evleri ve garajları kesmeyecek.



c) Yollar gösterilen dörtgen alanın dışına çıkmayacak.

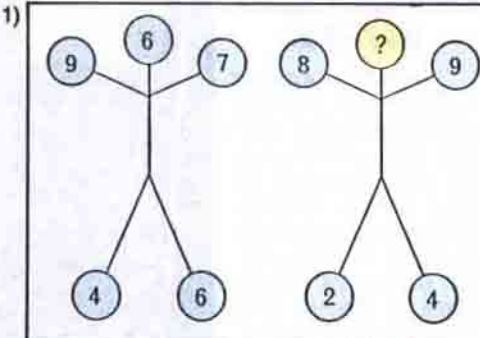
## SEKİZ VEZİR

Şekildeki satranç tahtasının taralı olmayan karelerine sekiz veziri öyle yerleştirinki, hiçbirini birbirini yiyemesin (Yani aynı düşey, yatay ya da diyagonal konumda bulunmasın).

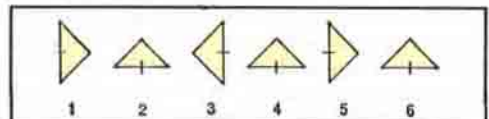


(Düşünme Kutusu'nun cevapları 29. sayfadadır.)

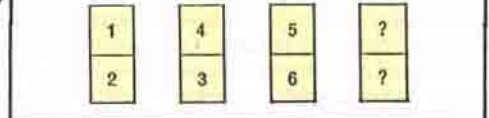
## MİNİ TEST



2) Farklı olanı bulun.



3)



CEVAPLAR: 1) 11, 2) 4, 3) 8 Üstte, 7 altta.