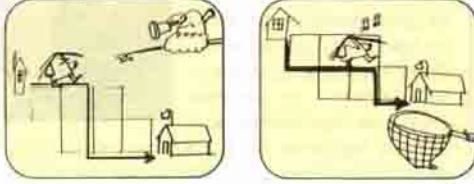


DİK SOKAKLAR

Ayşe, birbirini dik kesen sokakların bulunduğu bir mahallede oturmaktadır. Sadece güneye ve doğuya doğru giden Ayşe, evinden okula kaç değişik yolla gidebilir?

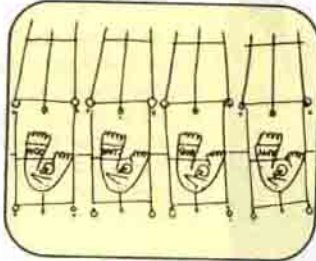


(Örnek olarak iki gidiş yolu şekilde verilmiştir.)

KARIŞAN BEBEKLER

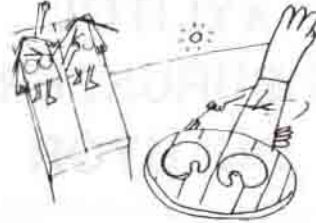
Bir doğumevinde dünyaya gelen dört çocuğa, doğum belgeleri verilirken, bir hata yapılmış ve 2 çocuk doğru, 2 çocuk ise yanlış kimlikle belgelenmiştir.

Bu hatalı işlem kaç değişik şekilde gerçekleşebilir?



BİFTEKLER

Lokantaya yeni alınan aşçı Bekir'den, üç adet bifteği en kısa sürede kızartması isteniyor. Bekir'in kullanacağı tava, iki adet biftek almaktadır. Bifteğin bir yanının kızarması için 10 dakika gerektiğinden, bir biftek için Bekir'in 20 dakika harcaması gerekmektedir. Bekir, en kısa olarak bu işi 40 dakikada yapacağını söyler. İki bifteği 20 dakikada kızartacak, sonrada tavaya üçüncü bifteği koyarak, 20 dakika da onu pişirecektir. Lokanta sahibi ise, bu işin daha kısa sürede yapılabileceğini söyler. Acaba nasıl?



FUTBOL KUPASI

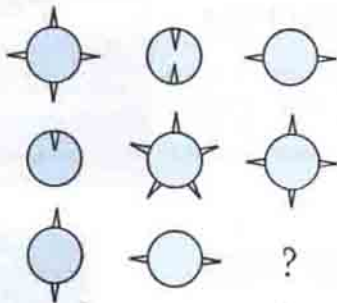
99 takım arasında bir futbol turnuvası düzenlenmiştir. Kurayla belirlenecek eşlendirme sonucu, iki takım tek bir maç yapıp, kaybeden elenecektir. Kazananlar arasında tekrar eşlendirme yapıp, turnuva benzer şekilde devam edecektir. (Tek sayıda takım kaldığında, kurayla belirlenen bir takım otomatikman tur atlayacaktır.

Şampiyonu belirlemek için, kaç karşılaşma yapmak gerekir?

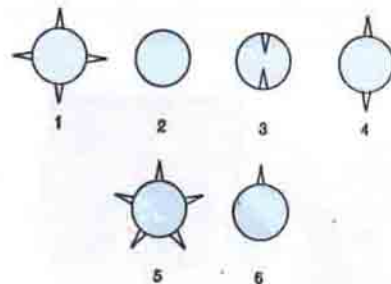
Geçen sayıda yayınladığımız Düşünme Kutusu'nun cevapları 25. sayfadadır.

MİNİ TEST

1)



2)



3) Boşlukları uygun gördüğümüz sesli harflerle doldurunuz.

		Y		
S		N	L	R

Cevaplar: 1) 1, 2) 44, 3) İyi seneler.