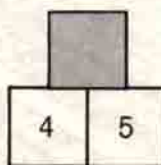
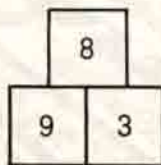
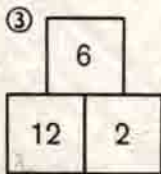




①

Her kare bir rakamı göstermektedir. Aynı kareler aynı rakamları gösterirler. Deneyerek, düşünerek ve hesap ederek karelerin yerine uyacak rakamları koyunuz ve yukarıdaki yatay ve dikey işlemleri tamamlayınız.

Yandaki şekil o şekilde bölünecektir ki, tamamıyla eşit iki parça meydana gelsin.



Boş kareye hangi sayı yazılacak ?

④

MASA kelimesi o şekilde değiştirilecek ki sonunda KONU olsun. Her seferde bir tek harf değiştirilebilir ve meydana dalma mânası olan tam bir kelime gelmelidir. (Han, Kan, Kın gibi).

GEÇEN SAYIDAKİ PROBLEMLERİN ÇÖZÜMÜ :

- a. 22 7 ile 10 arası 3,  
10 ile 15 in arası 5,  
çoğalan dizi + 3 + 5 + 7.

②

- b. 17 Dıştaki çift sayının yarısı alınacak ve ötekilerle toplanacak.

①

$$\begin{array}{r} 23 \times 13 = 299 \\ + \quad \times \quad = \quad - \\ 42 - 16 = 26 \\ 65 + 208 = 273 \end{array}$$

- ④ Çatı İğne  
Kati Dolap  
Kazi Dolar  
Tazi Doyar  
Taze Koyar  
Tane Kayar  
İane Kayak  
Kayık  
Yayık  
Yanık  
Sanık

