



# Hücreler Arası Yolculuk

Hücreler kendi aralarında madde alışverişi yapabilir. Buradaki hücreler de içlerindeki maddelerden yalnızca birini, diğer bir hücreyle değiş tokuş yaparak madde alışverişi gerçekleştiriyor. Örneğin ilk alışverişte A hücresindeki  maddesiyle D hücresindeki  maddesi yer değiştirdi. Sonra da D hücresi yalnızca bir maddeyi değiş tokuş yaptığı hücreyle iletişimi devam ettirdi. Madde alışverişinin hangi sırayla yapıldığını bulabilir misiniz?



Alışveriş sırası

1. A
2. D
- 3.
- 4.
- 5.
- 6.
- 7.
- 8.
- 9.
- 10.



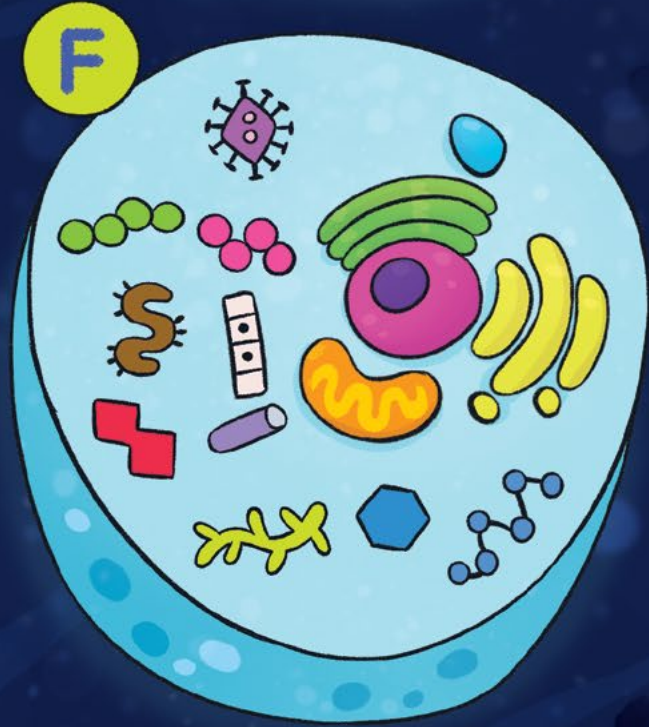

A

B

C

Ç





Yant 64. sayfada.

Merve Çelik  
Çizim: Pervin Özcan