

Harf Turu

Her karede sadece bir kere bulunmak koşuluyla tüm kareleri öyle dolaşın ki , üzerinden geçtiğiniz harfler ardarda okunduğunda isim, şehir, bitki, hayvan ve çiçek elde edilsin. (Bir kareden sadece komşusu olan kareye gidilebilir. Sağ, sol, yukarı ya da aşağıya.)

R	B	?	?	H
?	H	T	K	A
Ş	E	A	V	Y
M	?	N	Ç	?
?	S	K	E	Ç

İşlemi gerçekleştirebilmek için soru işaretlerinin yerine hangi harfi koymanız gerekir?

Kesme Şekerler




Dokuz adet kesme şeker yan yana getirildiğinde toplam kaç adet dikdörtgen oluşur?

- Şekilde görülen ve görülmeyen tüm dikdörtgenler dikkate alınacak.
- Birbirlerine değen yüzler her blok için ayrı ayrı sayılacak.

Kare Bölme



Yanda 5x5 birimlik bir karenin 8 kareye bölünmüş hali görülüyor. Aşağıdaki 7x7 birimlik kareyi 9 kareye bölünüz.



Soru İşareti

1, 1, 2, 4, 8, 7, 5, 1, 2, ?

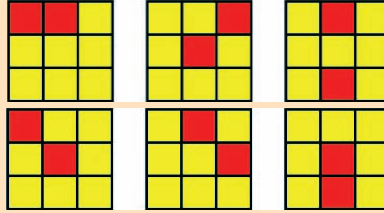
Soru işaretinin yerine hangi sayı gelecek?

Üç Sayı



ABC, DEF, GHJ sayılarının üçü de çift sayı olup, her harf farklı bir rakama karşılık gelmektedir. DEF sayısı ABC'nin 2 katı, GHJ ise ABC'nin 3 katı olduğuna göre bu üç sayıyı bulunuz.

Kareler



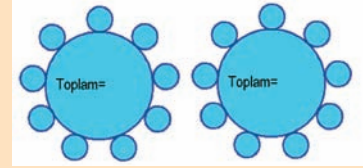
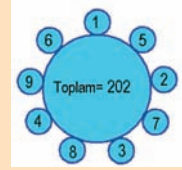
İlk altı şekli takip eden yedinci şekli kareler üzerinde karalayarak belirtiniz.

Sayı Dairesi

1'den 9'a kadar olan sayıları bir daire üzerine öyle yerleştirin ki, bütün komşu iki sayının çarpımlarının toplamı a)maksimum b)minimum olsun.

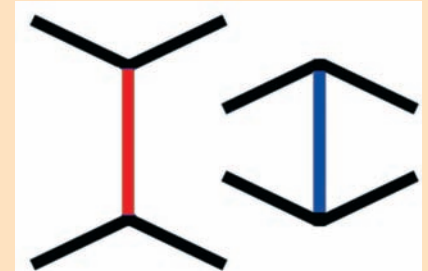
(Örnek bir yerleşim üstte görülüyor.

$1 \times 5 + 5 \times 2 + 2 \times 7 + 7 \times 3 + 3 \times 8 + 8 \times 4 + 4 \times 9 + 9 \times 6 + 6 \times 1 = 202$. Ancak bu toplam ne maksimum ne de minimum)



Göz Aldanması

Kırmızı çizgi, mavi çizgiden daha uzunmuş gibi görünüyor. Oysa ikisi de aynı uzunlukta.



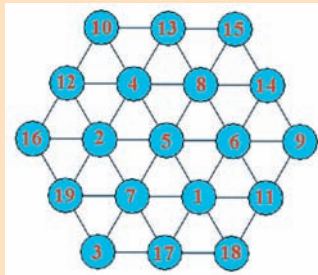
Aralık Ayının Çözümleri

Soru İşareti

71

(7 adet harf 1'er kez kullanılmış.)

Ondokuz Sayı



Sayı Taşlar

Kullanılan taş sayısı:19

Dizi:1111222212112122111

Zincir ve Halkalar

Ayıracağınız halka adedi: 4

Bu halkaların numaraları: 6, 17, 38, 79

Türkiye

252

İki Vezir

13/36

$(1456 / 64 \times 63 = 13/36)$

Bölünen Komşular

4	32	8	16
20	2	24	1
10	30	6	18
5	15	3	9