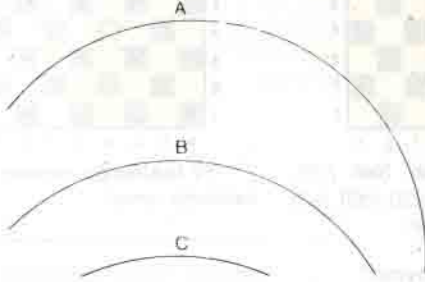


YAYLAR

Aşağıda görülen yaylar daireye tamamlanır-
sa hangisinin çapı en büyük olur?



SARIŞIN, KUMRAL, ESMER

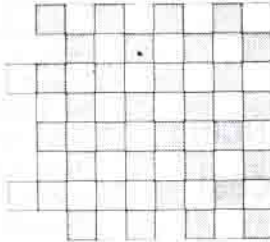
Elimizde üç arkadaşla ilgili şu bilgiler vardır :

- 1) Belma, esmerden büyük, mimardan küçüktür.
- 2) Cemile, sarışından küçüktür.
- 3) Ayşe, kumraldan büyüktür.
- 4) Mühendis, doktorun küçük kızkardeşidir.

Bu üç arkadaşın büyüklük sıralarını, saç renklerini ve mesleklerini bulunuz.

SATRAH TAHTASI

Aşağıdaki şek-
li öyle iki parçaya
ayırın ki birleştirdi-
ğinizde standart bir
satranç tahtası el-
de edilebilsin



İLGİNÇ SAAT

Ahmet: "Daire şeklinde bir duvar saatini bir destek üzerine yerleştirdim. Gayet doğru bir şekilde çalışıyor."


Mehmet: "Görüyorum. Akrep tam 12'nin üstünde ama yelkovanı düşmüş. Saati düzgün durumuyla yani duvara asılacak biçimde mi yerleştirdin?"

Ahmet: "Hayır. Saati döndürerek koymuş olabilirim. Üstelik rakamları da yeniden boyadım. Rakamların bazılarını ya da tümünü yanlış yerde olabilir."

Mehmet: "Boyanan rakamların kaç tanesi doğru yerinde?"

Ahmet: "Bu soruya cevap verirsem şu an saatin kaç olduğunu tam ve doğru olarak bulabilirsiniz."

Saatin kaç olduğunu bulunuz.



MÜZİSYENLER

Konservatuarda bir sınıftaki öğrencilerin yüzde 70'i piyano, yüzde 75'i keman, yüzde 80'i flüt, yüzde 85'i ise gitar çalmaktadır. Bu sınıfta öğrencilerin en az yüzde kaç aletlerin tümünü de çalabilir?

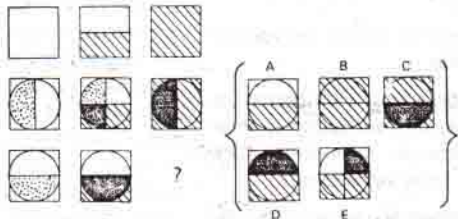
MINİ TEST

1) 5, 12, ?, 54, 110

2)

11	4	7
30	9	?

3)



CEVAPLAR: 1-26, 2-18, 3-C

Geçen sayımızdaki Düşünme Kutusu'nun cevapları 7. sayfamızdadır.