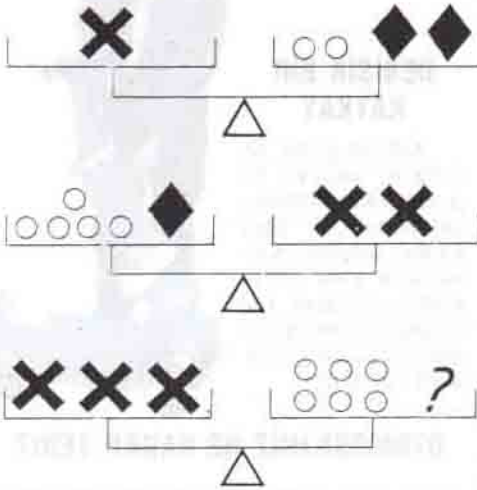




DENGE TERAZİSİ

Üstteki iki şekilde terazi denge durumundadır. Üçüncü şekilde de dengeyi sağlamak için soru işareti yerine kaç adet siyah baklava dilimi gerekir?



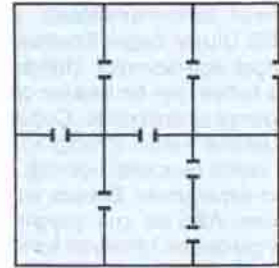
PUL BLOKLARI

9 x 4'lük pul blokunu öyle iki parçaya ayır ki, birleştirildiğinde 6 x 6'lık bir blok oluşsun (Bu işlem pullara zarar vermeden yapılacak, yani çizgili yerlerden ayıracaksınız).



KAPALI KAPILAR

6 odalı ve 8 kapılı bir dairenin planı şekilde görülmüyor. Sizden istediğimiz, bu daireye girip bütün kapıları kilitleyerek daireden çıkmanız. Bu işlemi yaparken her kapıdan yalnız bir kez geçeceksiniz. İşleme, arzu ettiğiniz bir odadan başlayabilirsiniz.



YANAN TANKER

Saatte 80 km hızla giden bir tanker, deposundan benzin kaçırmaktadır. Benzinin tutuşmasıyla başlayan alevler saatte 79 km hızla tankeri takip etmektedir. 250 km gittikten sonra tanker durur. Tankerin durmasından ne kadar sonra alevler tankeri yakalar?

MINİ TEST

- 1) 2) 2, 8, 5, 6, 8, ?, 11
- 3)

2	10	4
3	17	5
3	?	4
- (Düşünme Kutusu'nun cevapları 51 sayfadadır.)

CEVAPLAR : 1) 3 2) 3 3) 14