

DÜŞÜNME KUTUSU

Hazırlayan : Doc. Dr. Selçuk ALSAN

BİR HUKUK SORUNU

A ve B adlı iki adam için şu söylenenlerin hepsi doğrudur :


— Biri diğerini yaralasa, saldırıya uğrayanın yasal savunma (meşru müdafaa) hakkını kullanarak saldırıyı yaralama veya öldürmeyi düşünmesi bile mümkün değildir.

— Biri diğeri tarafından ne kadar tehlikeli bir şekilde yaralanmışsa, yaralanan o anda o kadar misilleme yapmaktan vazgeçecektir.

— Biri diğerini ağır yaraladığı zaman, dünyanın bütün hâkimleri yaralanıyı beraat ettirmek zorunda kalacaklardır.

— Bu iki kişiden her biri diğeri için şunu söylemektedir: onun dünyada asla öldürmek istemeyeceği bir kişi varsa o da benim.

Bu iki kişi arasında nasıl bir ilişki vardır?



YILBAŞI PARTİSİ

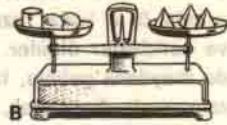
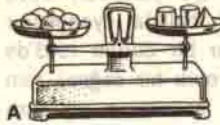
Bir yılbaşı partisininde 7 kişi vardı. Ocak önüne 5 kişinin çorabı asılı idi. Bu 5 kişi çorabının içine ko-

nan hediyeyi aldı. Bay Roy şu bilgileri verdi: Benim çorabım en uzun olanıdır (en soldaki). Eşimin çorabının solunda 3 çorap vardı. Oğlum Tom'un çorabının sağında 1 çorap ve oğlum ile eşimin çorapları arasında 1 çorap bulunuyordu. Herkes hediyesini çorabının içinden aldı. Benim hediyesim neydi? (İmkânsız gözüküyor, ama çözüm var)

T ²	L ¹	O ²	M ⁴	A ³	U ¹
A ³	V ¹	A ⁵	J ³	G ¹	S ²
Y ¹	H ²	İ ⁴	C ¹	İ ¹	R ¹
U ¹	L ¹	F ¹	T ¹	A ²	P ¹

ADALAR

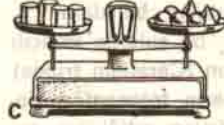
Bu şekilde dünyadaki 10 adanın isimleri saklıdır. Bir kareden yalnız komşu 8 kareden birine geçilebilir. Bir karenin kaç kez kullanılabilceği üzerinde yazılıdır. Aynı ada için bir kare 2 kez de kullanılabilir. (C harfi 2 ada için K, 1 ada için C sesi verecektir). Örnek: Adalardan biri Malta'dır.



A

B

TERAZİ



C

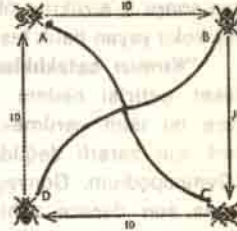
A ve B dengededir. C'deki durum ne olacak: Sağ mı, yoksa sol kefe mi daha ağır?

FIÇI

30 bardaklık bir su fiçisi var. Fiçinin dibindeki musluk tam açıkken 1 bardağı 10 saniyede dolduruyor. Fiçi, musluk tam açılınca kaç saniyede boşalır? (300 saniye değil).

AĞUSTOSBÖCEKLERİ

4 Ağustosböceği kenarları 10 cm'lik bir karenin köşelerine (A, B, C, D) oturmuştur. Aynı anda karenin merkezine doğru aynı hızla harekete başlarlar. Her böcek yanındakini yakalamak üzere A B'deki, B C'deki, C D'deki ve D A'daki ağustosböceğine doğru gitmeye başlar. Rastlaşmadan önce her biri kaç cm. yol almıştır?



SAYILAR

Birbirini ard arda izleyen herhangi 12 tam sayının (başlangıç keyfi) toplamının 4 ile kalan- sız bölünemeyeceğini kanıtlayın.

YANLIŞ CÜMLE

Aşağıdaki cümlede sözcükler karışmış, cümleyi doğru kurabilir misiniz?

Anlam'lı haydi sözcüğü kutlayalım yapacak bu bir on üç cümle sizi şekilde hararetle düzenleyin.

YAĞMUR

Denizde bir sandal var. Şiddetli bir yağmur yağıyor. Bu sırada rüzgâr çıkıyor ve yağmur eğimli olarak yağmaya başlıyor. Yağmur suyunun sandala doluş hızı rüzgâr çıkınca azalacak mıdır?