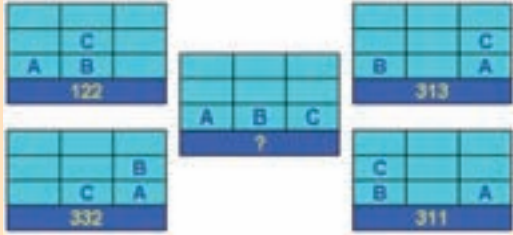
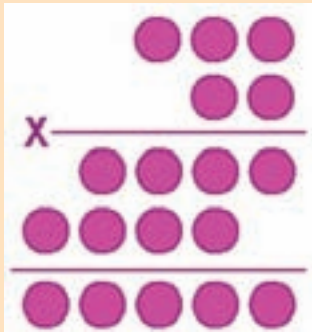


**Zar**

Standart bir zarı arka arkaya atarak gelen sayıları topluyorsunuz. Elde ettiğiniz toplam 10'u geçtiği an işlemi durduyorsunuz. Bu işlem bir çok kez tekrarlırsa en çok hangi toplamın elde edilmesi beklenir?

**Soru İşareti****Altınlar**

Toplam 500 gramlık altın içeren bir kutuda 15, 20, 25 ve 30 gramlık dört tip altın bulunuyor. Her tip altından tek sayıda bulunduğu ve toplam altın adedi minimum olduğuna göre altınların dağılımını bulunuz.

**Çarpma**

Dairelerin içlerine yalnızca (2, 3, 7, 9) rakamları gelebildiğine göre çarpma işlemi tamamlayınız.

**Akrep Yelkovan**

24 saatlik bir süre boyunca duvar saatinizi izliyorsunuz. Akrep ve yelkovan arasında kaç kez 90 derecelik açı oluşur?

**Boşlukları Doldurun**

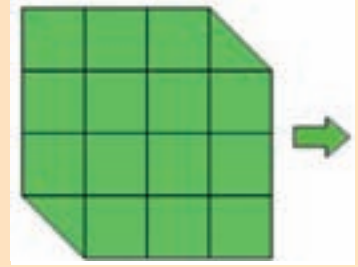
Birinci karedeki ilişkiye göre ikinci karedeki boşlukları doldurun.

12	-	11	-	2		
-	3	+	+	13	+	
1	+	-	9	-	+	6
+	8	-	-	7	+	
5	-	4	+	10		

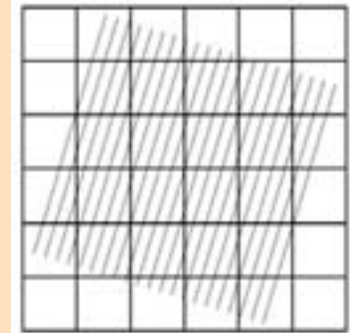
5		9		7
	10		12	
11		8		2
	13		4	
3		6		1

**Karton**

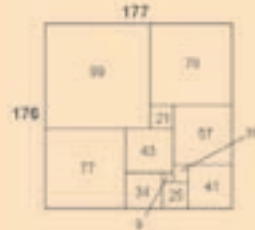
Üstte görülen 4 X 4 birimlik (köşeleri kesilmiş) kartonu keserek öyle iki parçaya ayırın ki, birleştirildiklerinde alttaki 5 X 3 birimlik karton elde edilsin.

**Göz Aldanması**

Kareleri oluşturan çizgiler birbirlerine paralel. Ancak zemindeki tarama gözümü zü aldatıyor.

**Mart Ayının Çözümleri**

Dikdörtgendeki Kareler



Üç Çubuk  
1/4

İki Sayı  
15384 / 7692

Ay - Yıldız

1. Hamle: (1-5), 2. Hamle: (3-7-1), 3. Hamle: (8-4-3-7), 4. Hamle: (6-2-8-4-3), 5. Hamle: (5-6-2-8), 6. Hamle: (1-5-6), 7. Hamle: (7-1)

Sayıli Sözcük  
PROJE

Yorum Yok

Soru satırının altını karaladıysanız bu soruyu çözmüş oldunuz. Çünkü her sözcüğün son üç harfi alındığında şu cümle oluşuyor: "BU SATIRIN ALTINI KARALAYIN".

Soru İşareti

9 (Dizinin terimleri 12 saatlik düzende çalışan bir saate göre artıyor. Terimler arasındaki farklar 2, 3, 4, 5, ... olarak devam ediyor).