





GENÇLERE SATRANÇ DERSLERİ – VI –

Kahraman OLGAC

1



2



3



4



Satranç taşlarının içinde en güçlüsü Vezir'dir. Bu görkemli taşı bir ordunun başkomutanına ya da demokratik bir ülkenin Başbakanına benzetebiliriz. Vezir hem Kale hem de Fil gibi oynar. Yani dik hat ve yatık sıralara ve çaprazlara hükmeder. Konum : 1 de Vezirin tam (27) kareyi ateş altında tuttuğunu gören torunum Kerem "Büyükbaba Vezir uzaygemisi'ne benziyor" dedi. Gerçekten At'ın sekiz, Fil'in onüç, Kale'nin ondört kareye hükmetmesine karşın Vezir yirmi yedi kareyle bütün taşlardan güçlü ve üstün olduğunu kanıtıyor.

Konum : 2 de (d3) karesinde bir Vezir oturuyor. (d6) karesinde de bir At. Beyaz Vezir'in ateş alanında oturan siyah At'ın durumu hiç iyi görünmüyor. Bakalım Vezir At'ı yemeye karar verecek mi? Bu sorunun yanıtını Konum : 3 de buluyoruz ve sonucu satranç notasyonu ile uzun ve kısa olarak iki şekilde yazıyorum:

1.Vd3xd6 ya da 1.Vd3: d6

(d3) karesindeki Vezir (d6) karesindeki At'ı yedi.

Kısa notasyon : 1.Vd6 ya da 1.Vd6: veya 1.Vd6x ya da 1.Vx6.

Ben bu sayfada ayrıntılı uzun notasyonu, "Satranç Köşesi" nde ise, yer darlığı dolayısıyla, kısa notasyonu kullanıyorum. Her satranç oyuncusunun bunları öğrenmesi zorunludur. Hamlelerini yazmasını bilmeyenleri hiç bir yarışmaya kabul etmezler.

Konum : 4 de (d4) karesindeki beyaz Vezir, ateş alanında duran sekiz düşman taşından hangisini arzu ediyorsa yiyebilir. Bildiğiniz gibi satranç oyununda taş yemek zorunlu değildir.

Vezir'in
işareti : V

Vezir'in
resmi :



1. Beyaz Vezir'in hangi taşı yiyeceğini satranç notasyonu ile uzun ve kısa olarak yazınız.


(1. Vd5 x h5 1. Vh5)

2. Beyaz Vezir'in ateş alanında bulunan taşların adlarını yazınız.


(Fil, Kale)

3. Beyaz Vezir'i hangi taş koruyor?


(Kale)



1



2



3