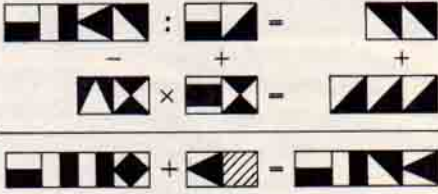


Düşünme Kutusu



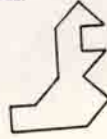
BU AYIN 4 PROBLEMİ



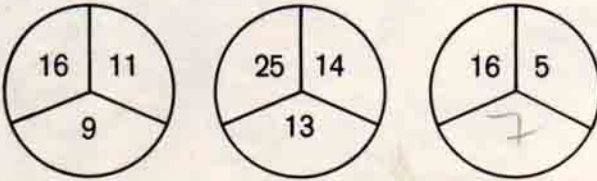
①

Her kare bir rakamı göstermektedir. Aynı kareler aynı rakamları gösterirler. Deneyerek, düşünerek ve hesap ederek karelerin yerine uyacak rakamları koyunuz ve yukarıdaki yatay ve düşey işlemleri tamamlayınız.

② Yandaki şekil o şekilde bölünecektirki tamamıyla eşit iki parça meydana gelsin.



③



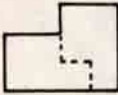
④

Boş kareye
hangi sayı yazılacak ?

Şira kelimesi o şekilde değiştirilecek ki sonunda Mani olsun. Her seferinde bir tek harf değiştirilebilir ve meydana daima manâsı olan tam bir kelime gelmelidir ? (Han, Kan, Kin gibi).

GEÇEN SAYIDAKİ PROBLEMLERİN ÇÖZÜMÜ :

②



④

Dolap
Dolar
Doyar
Koyar
Kayar
Kayak
Kayık
Yayık
Yanık
Sanık

①

$$\begin{array}{r} 247 + 72 = 319 \\ \underline{\quad} \quad \times \quad = \quad + \\ 56 \times 8 = 448 \\ \hline 191 + 576 = 767 \end{array}$$

③

11. Her üç sayının toplamı
20. olacaktır.