

# Toplama - Çıkarma Etkinlik Kitapçığı

1 2 3

Sayıyorum, topluyorum, çıkarıyorum,  
sanki sayılarla oyun oynuyorum...



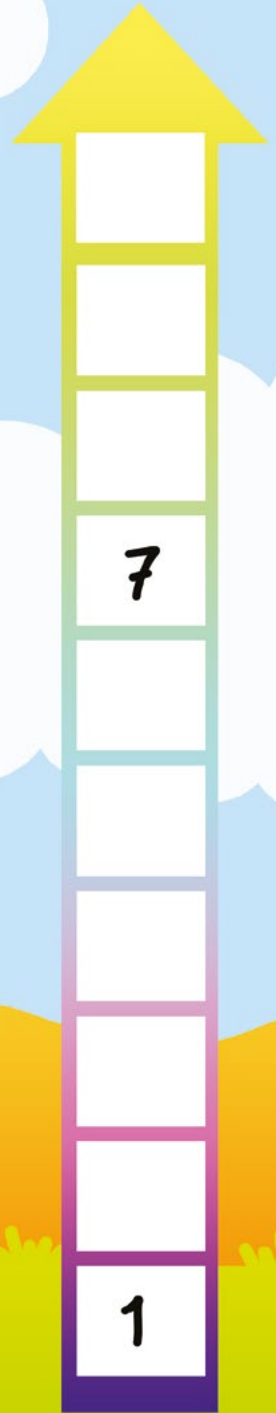
Bu kitapçığın sahibi:

Merve Yıldırım  
Çizim: Göksu Karaca


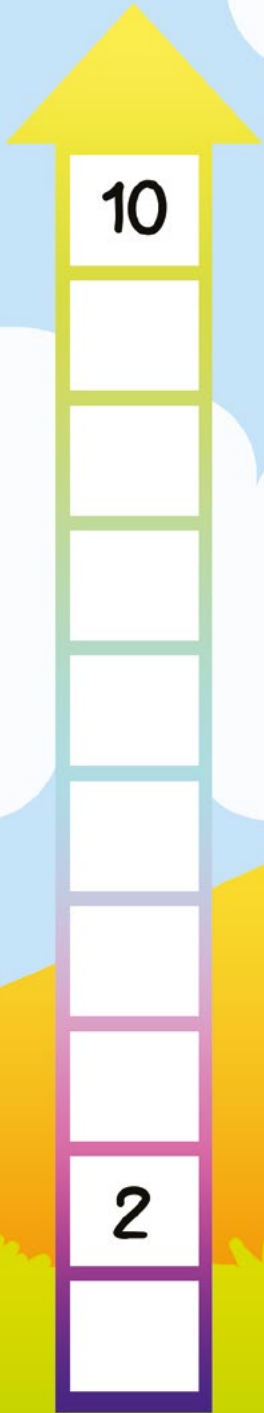
# Roketler Yola Çıkıyor

Bu iki roket de uzaya fırlatılmak için hazır!

- Önce sol sayfada, aşağıdan yukarı doğru ilerle. 1'den 10'a kadar olan sayılardan eksik olanları yaz.



- Sonra sađ sayfada, bu sefer yukarıdan ařađı dođru ilerle. 10'dan 1'e kadar olan sayılardan eksik olanları yaz.



- Yazma iřlemin bitince hem 1'den 10'a kadar say hem de 10'dan geriye say.



# Bobo'nun Tişörtleri

Bobo, tişörtlerini yıkadı ve iplere astı. Her ipteki tişörtlerden birinin üzerinde bir sayı yazılı. O tişörtlerden önceki ve sonraki tişörtlerin sayılarını da sırasına göre sen yaz.







# Aile Üyelerini Sayalım

Aşağıda dört hayvan ailesi var. Her biri iki ayrı grup hâlinde duruyor. Onları bir araya getirelim mi? Sence bu aileler kaçar kişiden oluşuyor? Haydi gel, birlikte hesaplayalım.



Kaç kurbağa var?



Kaç kurbağa eklendi?



Kaç papağan var?



Kaç papağan eklendi?



Kaç yengeç var?



Kaç yengeç eklendi?



Kaç fare var?



Kaç fare eklendi?



# Meyve Sebze Pazarı

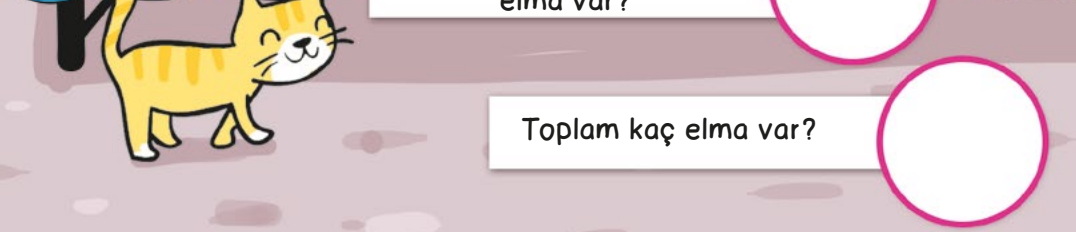
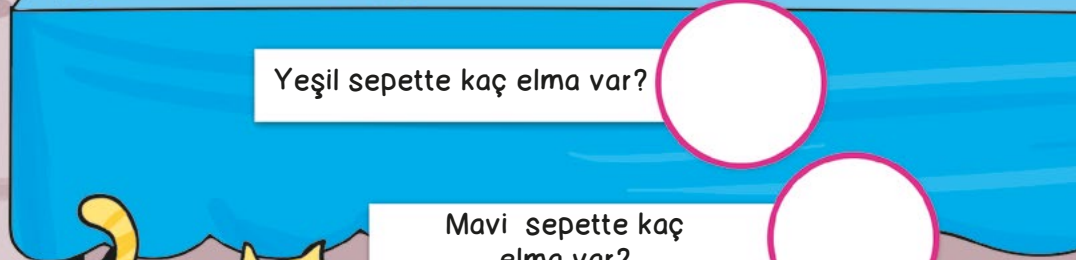
Kaç havuç var?

Kaç nar var?

Yeşil sepette kaç elma var?

Mavi sepette kaç elma var?

Toplam kaç elma var?





Kaç yeşil biber var?

Kaç kırmızı biber var?


Toplam kaç biber var?

Kaç portakal var?



# Yemek Saati

Maymun, tavşan, eşek ve ayının yemek saati. Haydi gel, ne kadar yemek yediklerini birlikte hesaplayalım.



Maymunun kaç muzunu var?

Kaçını yedi?

Kaç muz kaldı?

-

=



Tavşanın kaç havucu var?


Kaçını yedi?

Kaç havuç kaldı?

-

=





Eşğin kaç keki var?

Kaçını yedi?

Kaç kek kaldı?

=

=



Ayının kaç kavanoz balı var?

Kaçını yedi?

Kaç kavanoz bal kaldı?

=

=



# Anaokulunda



Kaç blok var?

Kaç kamyon var?

Gökçe birini aldı.  
Kaç kamyon kaldı?



Kaç kitap var?

Ali ikisini aldı.  
Kaç kitap kaldı?



Kaç top var?

Öğretmen üçünü aldı.  
Kaç top kaldı?




Kaç bez bebek var?



# Su Altı Dünyası

Su altı dünyasına hoş geldin! Bazı toplama ve çıkarma hesaplamaları yapmak için yine yardımın gerekiyor. Haydi oyun başlasın.



Ahtapotun kaç kolu var?

Kaç kolunda taş var?

Kaç kolunda taş yok?



Kaç kırmızı yengeç var?

Kaç turuncu yengeç var?

Toplam kaç yengeç var?





Denizaltının kaç penceresi var?



Sen de denizaltıya pencere çiz,  
kaç pencere çizdin?

Toplam kaç penceresi oldu?



Kaç dalgıç var?

Kaçı yukarı doğru  
yüzüyor?

Kaçı aşağı doğru  
yüzüyor?



Kaç denizati var?

Kaçı denizyıldızlarının  
yanına gidiyor?

Kaç denizati kaldı?



Meraklı Minik dergisinin Aralık 2021 sayısının ekidir.