




# SATRANÇ DÜNYASI

Kahraman OLGAÇ



## DÜNDEN BİR YAPRAK

Hamle sırası Siyahda! Görünüşe göre yapacak bir şey yok! J.M. Simmel'in romanlarındaki kahramanların durumu gibi, hiçbir kurtuluş yolu yoka benziyor. Satranç perisi Caissa, son anda yetişerek siyahı mat ağından kurtarıyor. Çözümüne bakmadan çareyi bulursanız, ustalık dereceniz iyice yükselmiş olur diyebilirim. 1.. Kb1 2. Şh2 Kh1 3. Şxh1 Ag3! 4. fxg3 Vxg2!! 5. Şxg2 pat!




a b c d e f g h

## AYIN OYUNU

Londra'da 14 büyük ustanın katıldığı büyük turnuvada, Karpov'la Korchnoi bir arada oynuyorlar. Üçüncü turda oynanan ve Dünya şampiyonu Karpov'un galibiyeti ile biten enteresan bir oyunu sizlere sunuyorum.

TİMMAN — KARPOV, LONDRA 1984

1. e4 e5 2. Af3 Ac6 3. d4 exd4 (Bu yılın başarılı oyuncusu Timman, Karpov'a alelacele saldırıyor. Bakalım başarılı olacak mı?) 4. Axd4 Af6 5. Axc6 bxc6 6. e5 Ve7 7. Ve2 Ad5 8. c4 Fa6 9. Ve4 Ab6 10. Ad2 0-0-0 11. c5 Fxf1 12. cxb6 Fa6 13. bxa7 Şb7 14. Ab3 f6 15. f4 fxe5 16. fxe5 Ke8 17. Ff4 Vh4 18. g3 Vh5 19. Kc1 Şa8 (Herhalde böyle sağlam bir savunmayı nasıl yıkacağını Kasparov'da düşünüyordur.) 20. h4 d5 21. Ve3 g5! (Müthiş bir vuruş!) 22. Fxg5 Fb4 23. Şf2 Khf8 24. Şg2 (Bkz: Diyagram) 24.. Kxe5! 25. Vxe5 Vf3 26. Şh2 Vf2 0-1




a b c d e f g h

## SİZ OLSAYDINIZ ?

Diyagram I'de beyazları oynuyorsunuz. 3 hamlede mat var.

Diyagram II'de Siyah taşlar sizde. Beyazın üçüncü hamlesindeki Af3? hatasından faydalanarak, 7 hamlelik bir matı gerçekleştirebilir misiniz?



Diyagram III; Beyazlarla 9 hamlelik zor bir mata ne dersiniz?

YANITLAR :

DİYAGRAM I : 1. Vg5! Kg8 2. Vxh6! gxh6 3. Kxg8 mat (Hult-Collett 1946)

DİYAGRAM II : 1.. Fxh3! 2. Şxh3 Vf6 3. Af3? Vf5 4. Şh2 Kxg2! 5. Şxg2 Kg8 6. Şh1 Vh3 7. Ah2 Vg2 mat (Puky-Steiner 1894)

DİYAGRAM III : 1. Vg6! Af6 2. Kxc8! Kfxc8 3. Af5 Vf8 4. Axx6 Şh8 5. Axf7 Şg8 6. Ae5 Şh8 7. Vg5 Vc5 8. Vh4 Ah7 9. Ag6 mat (Mikenas-Schmidt 1951)