


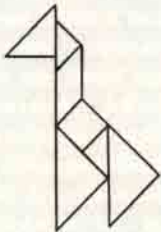


TANGRAM :

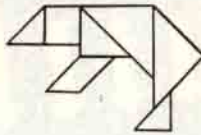
- Yanda gördüğünüz siyah dörtgenin içinde iki büyük üçgen, bir orta boy üçgen, iki küçük üçgen, bir kare, bir de paralel kenar vardır. Oyuna bilmeceleri çözmeye başlamak için, ilk önce kalınca kartondan, üzerine siyah el işi kâğıdı yapıştırırsanız daha iyi olur, kenarları 7,5 cm. olan bir kare kesiniz. Kareyi yanda gördüğünüz 7 geometrik şekle bölünüz ve bunları da düzgün keserek ayırınız. Biraz dikkat ederseniz bunun çok basit olduğunu anlayacaksınız.



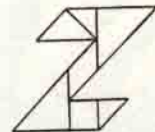
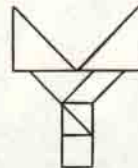
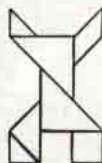
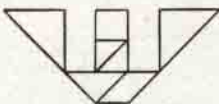
YENİ PROBLEMLER



ZÜRAFA



KUTUP AYISI



GEÇEN SAYIDAKİ PROBLEMLERİN ÇÖZÜMÜ :