

ŞİŞE ALMA OYUNU



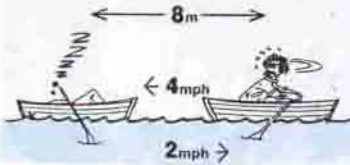
10 adet şişeyle oynanan bu oyunun kuralları şöyle :

- 1) Oyun iki kişinin sırayla gruptan şişe almasına dayanıyor.
- 2) Sıra kime gelirse, o kişi 1 ya da 2 adet şişe alıyor.
- 3) En son şişeyi alıp diğerine şişe bırakmayan, oyunu kazanıyor.

Oyuna ilk kez siz başlayacak olsanız, kesinlikle size kazanç getirecek olan stratejiyi bulabilir misiniz?

(Cevabı kolayca bulduysanız, değişik şişe sayıları için de denemeler yapınız.)

UYUYAN BALIKÇI




Balıkçı Ahmet, uyuyan arkadaşını uyandırmak için, nehirde akıntıya doğru ters yönde kürek çekmeye başlar. Aralarındaki uzaklık 8 mil, Ahmet'in hızı saatte 4 mil ve akıntının hızı saatte 2 mildir. Ahmet'in arkadaşına ulaşması için ne kadar zaman gerekecektir?

DOKUZ ÖRDEK



Bir kare içinde dokuz ördek görüyorsunuz. İki adet kare çizerek bütün ördekleri birbirinden nasıl ayırırsınız?

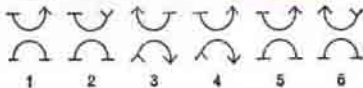

SAYILARI BİRLEŞTİRİN



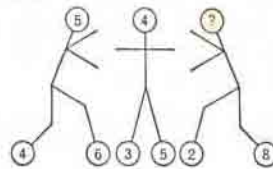
Üç adet çizgi çizerek, 1 ile 1'i, 2 ile 2'yi ve 3 ile 3'ü birleştirin. Çizgiler dörtgenin içinde olacak ve birbirlerini kesmeyecek.

MİNİ TEST

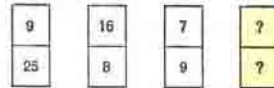
1)



2)



3)



CEVAPLAR: 1) 2, 2) 5, 3) 4, 6

(Düşünme Kutusunun cevapları 34. sayfadadır.)