



# GEOMETRİK ŞEKİLLER

Geometrik şekiller genellikle kenar sayılarına göre adlandırılır. Üçgen, dörtgen, beşgen, altıgen...

Üçgenlerin üç kenarı ve üç köşesi bulunur. Haydi buradaki üçgeni bul. Kenar ve köşelerini say. Üçgenin kenarları üzerinde işaret parmağını gezdirerek şekli tamamla.



Kare ve dikdörtgenin dört köşesi bulunur. Onlara dörtgen de denir. Tüm dörtgenlerin dört kenarı ve dört köşesi vardır. Buradaki dörtgenleri bul. İşaret parmağını kenarları üzerinde gezdirerek şekilleri tamamla!






Hiç köşesi olmayan  
bir şekil biliyor  
musun? Onu bu  
sayfada bulabilir  
misin?



Peki ya sence beşgenlerin  
kaç kenarı ve kaç köşesi  
bulunur? Haydi, tahmin  
et. Bu sayfadaki beşgeni  
bulup işaret parmağınla  
üzerinden geçebilir misin?



Altıgenlerin altı, sekizgenlerin  
sekiz... Ongenlerin de on köşesi  
ve on kenarı bulunur. Buradaki  
altıgeni, sekizgeni ve ongeni bulup  
gösterir misin?