

Sayı Bulmacaları Eşkenar üçgen

Bilim
Çocuk

1'den 9'a kadar olan sayıları, hiçbirini tekrar etmeden üçgenin kenarlarındaki dairelere yazın. Üçgenin her bir kenarındaki sayıların toplamı 17 olmalı.



Sayı Bulmacaları Koyun saymaca

Bilim
Çocuk


Işık pazartesi gecesi uyuyabilmek için 128, salı gecesi bunun yarısı kadar, çarşamba gecesi salı gecesi saydığından yarısı kadar koyun saydı. Haftanın diğer gecelerinde de bir önceki gece saydığından 6 koyun eksik saydı. Işık cumartesi gecesi kaç koyun saymıştır?



Sayı Bulmacaları Taştan taş

Bilim
Çocuk

Ece, derenin karşısına geçmek için taştan taş atlayacak. Ancak Ece yalnızca bir sayının karesi olan sayıların yazıldığı taşlara basabilir. Ece hangi taşlara basarak derenin karşısına geçebilir?



Sayı Bulmacaları Piramit

Bilim
Çocuk

Bu piramitteki her bir sayı, altındaki iki sayının toplamı. Piramitteki her bir taşın üzerine yazılması gereken sayıyı bulur musunuz?



Sayı Bulmacaları Tren yolculuğu

Bilim
Çocuk

Eskişehir'den İzmir'e 88 yolcusuyla yola çıkan tren, Kütahya Tren Garı'nda 12 yolcu alıyor. Ali Çetinkaya Tren Garı'nda trene 3 yolcu biniyor, trenden 8 yolcu iniyor. Uşak Tren Garı'nda trene 45 yolcu biniyor. Turgutlu Tren İstasyonu'nda trenden 18 yolcu iniyor. Tren İzmir'deki Alsancak Tren Garı'na ulaştığında 65 yolcusu bulunuyor. Manisa Tren Garı'nda trenden kaç yolcu inmiştir?



Sayı Bulmacaları Tırtıl

Bilim
Çocuk

Tırtılların üzerindeki sayılar belirli bir düzene göre sıralanmış. Bu sayılardan eksik olanları tamamlayınız?



Sayı Bulmacaları

Yanıt




Sayı Bulmacaları

Yanıt




Sayı Bulmacaları

Yanıt



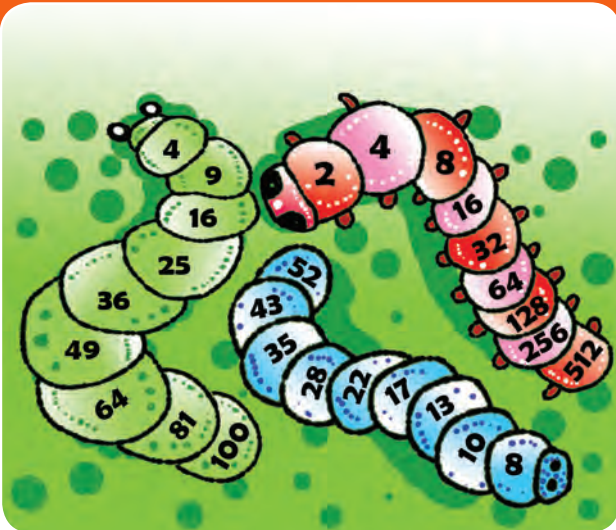
Sayı Bulmacaları

Yanıt



Sayı Bulmacaları

Yanıt



Sayı Bulmacaları

Yanıt



Sayı Bulmacaları Pazardan alışveriş

Bilim
Çocuk


Arda babasıyla pazara gidiyor. Yanlarında 45 TL var. Alışveriş listesindeki her şeyi alırlarsa geriye kaç liraları kalır?



Sayı Bulmacaları Tombala

Bilim
Çocuk

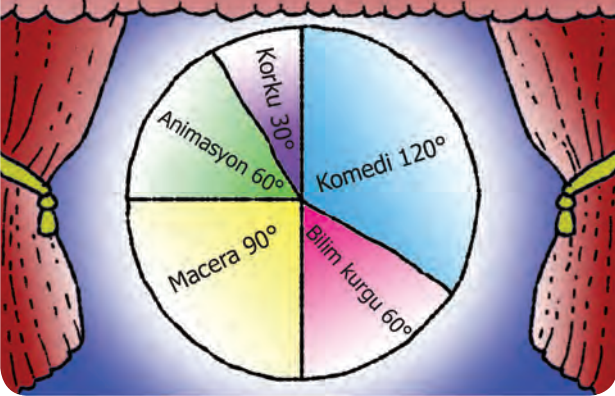
Serin ve Derin tombala oynuyor. Bir sayı söylendiğinde, sonucu bu sayıyı veren işlemin bulunduğu karenin üzerine çiziyorlar. Söylenen sayıları ve kartlardaki işlemleri inceleyin ve kartındaki tüm sayıları çizip tombala yapan kişinin kim olduğunu bulun. Söylenen sayılar: 13, 98, 2, 21, 33, 9, 25, 44, 67



Sayı Bulmacaları Sinemada

Bilim
Çocuk

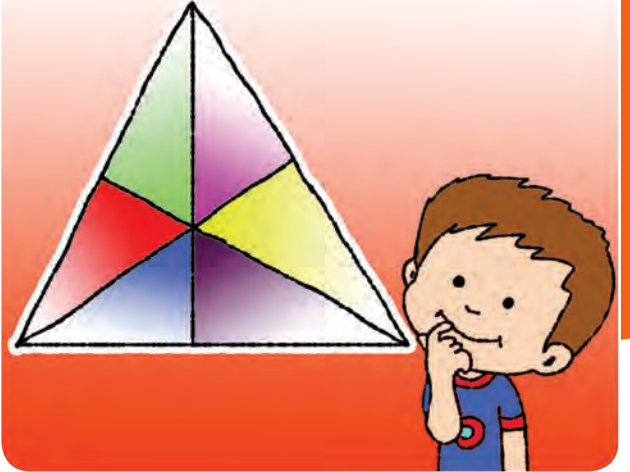
Cumartesi akşamı 120 kişi sinemaya gitmiş. Daire grafiği bu kişilerin ne tür filmleri tercih ettiğini gösteriyor. Grafiğin içinde yazan açılara bakarak kaç kişinin ne tür film izlediğini bulabilir misiniz?



Sayı Bulmacaları Üçgen saymaca

Bilim
Çocuk


Bu çizimde kaç üçgen var?



Sayı Bulmacaları 15'i bul

Bilim
Çocuk


1 ile 9 arasındaki sayıları sadece bir kez kullanarak boş karelere yazın. Her bir satır, sütun ve köşegendeki sayıların toplamı 15 olmalı.



Sayı Bulmacaları Asal sayı canavarı

Bilim
Çocuk

Asal sayı canavarı asal sayıları bir bir yakalıyor. Geride kalan sayıların toplamını bulabilir misiniz?



Sayı Bulmacaları

Yanıt



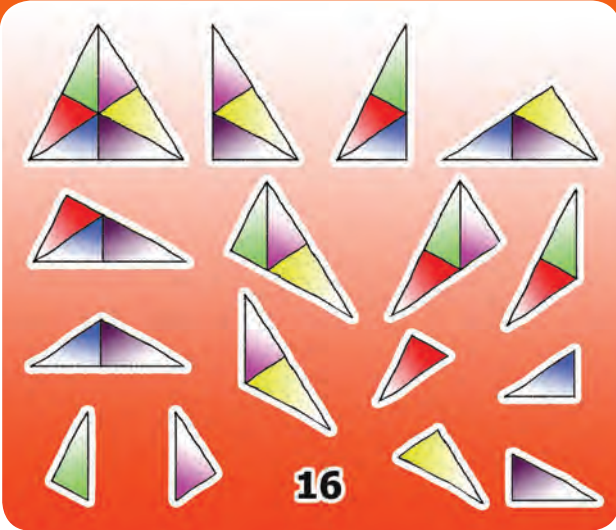
Sayı Bulmacaları

Yanıt



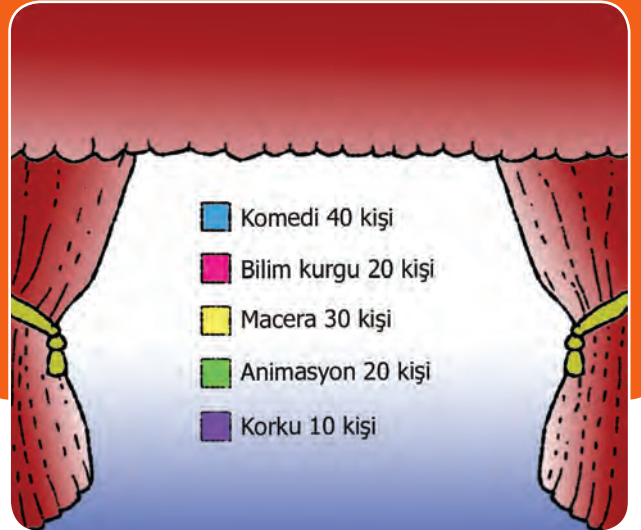
Sayı Bulmacaları

Yanıt



Sayı Bulmacaları

Yanıt



Sayı Bulmacaları


Yanıt

$$27 + 6 + 18 = 51$$



Sayı Bulmacaları

Yanıt



Sayı Bulmacaları Koltuk numaraları

Bilim
Çocuk

Şirin ailesi bale izlemeye gelmiş. Yan yana aldıkları koltukların numaralarının toplamı yaşlarının toplamına eşit. Anne 39 yaşında, baba anneden 1 yaş küçük. Çocukların biri 5 yaşında, diğeri ondan 3 yaş büyük. Bu aile hangi koltuklara oturacak?

1	2	3	4	5	6	7	8
9	10	11	12	13	14	15	16
17	18	19	20	21	22	23	24
25	26	27	28	29	30	31	32
33	34	35	36	37	38	39	40
41	42	43	44	45	46	47	48

Sayı Bulmacaları En büyük kim?

Bilim
Çocuk

Seda, Seray'dan 6 ay küçük. Seray, Hande'den 10 ay büyük. Seçil, Seda'dan 2 ay büyük. Aralarında en küçük olan 10,5 yaşında olduğuna göre en büyük kimdir ve kaç yaşındadır?



Sayı Bulmacaları Gizli şifre

Bilim
Çocuk

Annesi Kerem'e şifreli bir mesaj yazmış. Annesinin Kerem'e ne yazdığını bulabilir misiniz?

48	55	48	14	31	18	9	14	24	21	24	15	3
----	----	----	----	----	----	---	----	----	----	----	----	---

E = 72'nin %25'i	R = 81'in 1/9'u	Z = 110'un %50'si
İ = 60'in %40'i	S = 70'in %30'u	? = 6'nin 1/2'si
M = 49'un 2/7'si	Ü = 80'in %60'i	
N = 20'nin %75'i	Y = 155'in %20'si	

Sayı Bulmacaları Oyuncak makinesi

Bilim
Çocuk

Bir oyuncak makinesinde 60 tane oyuncak var. Bunlardan 30 tanesi oyuncak ayı, 15 tanesi araba, 1 tanesi robot, 14 tanesi topaç. Makineye para atan her çocuk bir oyuncak alabiliyor. Bir çocuğun para attığında aşağıdaki oyuncaklardan birini alma olasılığının ne olduğunu yandaki kesirlerle eşleştirebilir misiniz?



Sayı Bulmacaları Kuş gözlemi

Bilim
Çocuk

Doğa ve Kaan kuşları gözlemiyor. Doğa 5 mavi baştankara, 3 çıtkuşu, 2 tarla ardıcı; Kaan 6 mavi baştankara, 1 karga, 2 çıtkuşu, 3 tarla ardıcı görüyor. Doğa'nın gördüğü kuşların yüzde kaç çıtkuşudur? Kaan'ın gördüğü kuşların yüzde kaç tarla ardıcıdır? İki gözlemcinin gördüğü kuşların toplam yüzde kaç mavi baştankaradır?



Sayı Bulmacaları Takvim

Bilim
Çocuk

25 Ocak Çarşamba gününün üç gün sonrasında bir hafta öncesinin on gün sonrasında bir ay öncesi hangi takvim günüdür?

OCAK						
Pzt	Salı	Çrş	Prş	Cuma	Cts	Pazar
						1
2	3	4	5	6	7	8
9	10	11	12	13	14	15
16	17	18	19	20	21	22
23	24	25	26	27	28	29
30	31					



Sayı Bulmacaları


Yanıt

En büyük Seray



Sayı Bulmacaları

Yanıt




Sayı Bulmacaları

Yanıt




Sayı Bulmacaları

Yanıt



Sayı Bulmacaları

Yanıt



Sayı Bulmacaları

Yanıt

Doğa'nın gördüğü kuşların yüzde kaççı çıtkuşudur? % 30
Kaan'ın gördüğü kuşların yüzde kaç tarla ardıcısıdır? % 25
İki gözlemcinin gördüğü kuşların toplam yüzde kaç mavi baştankaradır? % 50

